

MJERENJE VREMENA

IME I PREZIME: _____

RAZRED: _____

NADNEVAK _____

BROJ BODOVA: ____ / 35

BILJEŠKA: _____

1 Dopuni rečenice.

Između proljeća i jeseni je _____.

Nakon ljeta dolazi _____.

Prije _____ je jesen.

_____ je između zime i ljeta.

BODOVI: ____ / 4

2 Poveži sliku s odgovarajućom riječi.

zidni sat

pametni sat

ručni sat

sunčani sat

pješčani sat

budilica

BODOVI: ____ / 6

3 Zaokruži slovo ispred točnog odgovora.

Mala kazaljka na uri pokazuje:

- a) minute b) sate c) sekunde

Minute na uri prikazuje:

- a) tanka kazaljka b) mala kazaljka c) velika kazaljka

BODOVI: ___ / 2

4 Nacrtaj kazaljke prema zadanom vremenu.

8:20



11:55




21:00




BODOVI: ___ / 3

5 Očitaj vrijeme i napiši na crtu.


PRIJEPODNE



POSLIJEPODNE



POSLIJEPODNE



BODOVI: ___ / 3

6 Ispred naziva mjeseca napiši odgovarajući redni broj mjeseca ili iza rednog broja napiši naziv mjeseca.

_____ OŽUJAK

7. _____

12. _____

11. _____

_____ LIPANJ

_____ VELJAČA

_____ LISTOPAD

5. _____

1. _____

_____ RUJAN

_____ TRAVANJ

8. _____

BODOVI: ____ / 6

7 Na kalendaru zaokruži:

a) prvi dan jeseni zelenom bojom

c) zadnji dan zime žutom bojom

b) prvi dan ljeta plavom bojom

d) zadnji dan proljeća crvenom bojom.

siječanj

	1	2	3	4		
5	6	7	8	9	10	11
12	13	14	15	16	17	18
19	20	21	22	23	24	25
26	27	28	29	30	31	

veljača

						1
2	3	4	5	6	7	8
9	10	11	12	13	14	15
16	17	18	19	20	21	22
23	24	25	26	27	28	29

ožujak

1	2	3	4	5	6	7
8	9	10	11	12	13	14
15	16	17	18	19	20	21
22	23	24	25	26	27	28
29	30	31				

travanj

			1	2	3	4
5	6	7	8	9	10	11
12	13	14	15	16	17	18
19	20	21	22	23	24	25
26	27	28	29	30		

svibanj

						1	2
3	4	5	6	7	8	9	
10	11	12	13	14	15	16	
17	18	19	20	21	22	23	
24	25	26	27	28	29	30	31

lipanj

	1	2	3	4	5	6
7	8	9	10	11	12	13
14	15	16	17	18	19	20
21	22	23	24	25	26	27
28	29	30				

2020

srpanj

				1	2	3	4
5	6	7	8	9	10	11	
12	13	14	15	16	17	18	
19	20	21	22	23	24	25	
26	27	28	29	30	31		

kolovoz

						1
2	3	4	5	6	7	8
9	10	11	12	13	14	15
16	17	18	19	20	21	22
23	24	25	26	27	28	29
30	31					

rujan

	1	2	3	4	5	
6	7	8	9	10	11	12
13	14	15	16	17	18	19
20	21	22	23	24	25	26
27	28	29	30			

listopad

		1	2	3		
4	5	6	7	8	9	10
11	12	13	14	15	16	17
18	19	20	21	22	23	24
25	26	27	28	29	30	31

studeni

1	2	3	4	5	6	7
8	9	10	11	12	13	14
15	16	17	18	19	20	21
22	23	24	25	26	27	28
29	30					

prosinac

				1	2	3	4	5
6	7	8	9	10	11	12		
13	14	15	16	17	18	19		
20	21	22	23	24	25	26		
27	28	29	30	31				

BODOVI: ____ / 4

8 Napiši današnji nadnevak. _____

BODOVI: ____ / 1

9 Poveži podatke s lijeve strane s odgovarajućim podacima s desne strane.

JEDAN DAN

7 DANA

JEDAN TJEDAN

60 MINUTA

JEDNA GODINA

NAJČEŠĆE 30 ILI 31 DAN

JEDAN SAT

60 SEKUNDI

JEDAN MJESEC

24 SATA

JEDNA MINUTA

12 MJESECI

BODOVI: ____ / 6